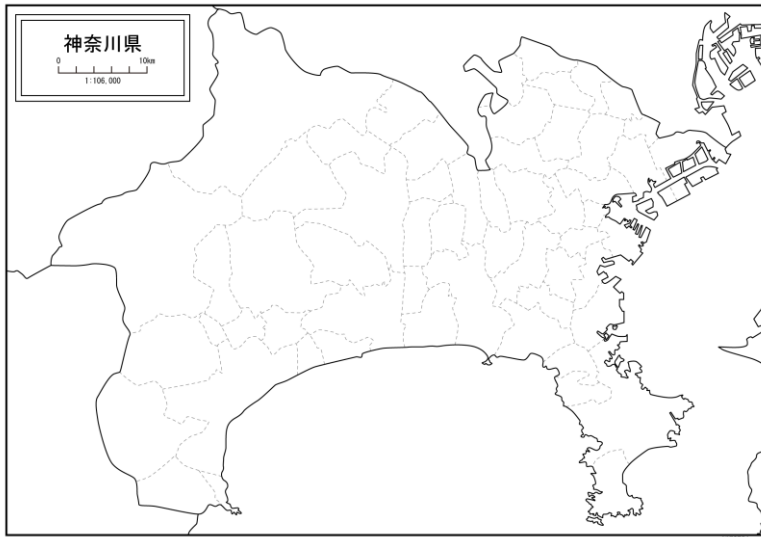


1. わたしたちの市のようす (2ページ ~ 16ページ)

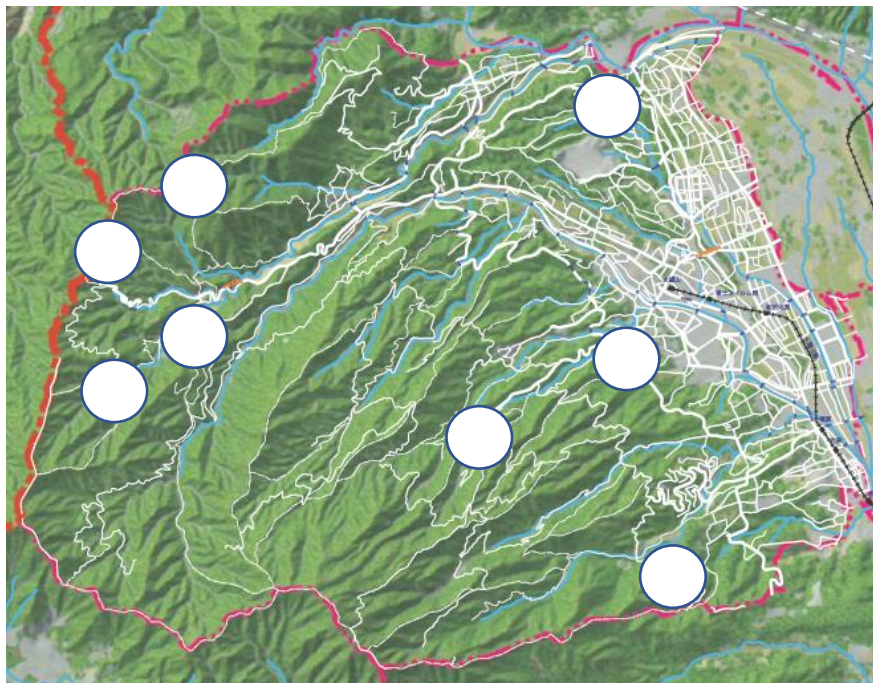
1 ^{みなみあしがらし}南足柄市は、どこでしょう？ ^{みなみあしがらし}南足柄市に ^す好きな ^{いろ}色をぬりましょう。



^{かながわけん}神奈川県には、^{げんざい}現在
19市、13町、1村が
あります。

2 次の①から⑧の場所は、どこにあるでしょう？ 図の○に当てはまる番号を入れ
ましょう。

- ① ^{あしがらとうげ}足柄峠と^{あしがら}足柄道・・・^{いじょう}足柄道は1000年以上前から使われていた道で、^{あしがら}足柄峠は東西を分ける重要な場所。
- ② ^{やくらだけ}矢倉岳・・・115万年前に地下深くで固まった溶岩が、急速に盛り上がりできた、世界でも珍しい山。
- ③ ^{たき}夕日の滝・・・^{かた}火山の硬い地層と、海でできた柔らかい地層の境界にできた滝。金太郎の伝説がある。
- ④ ^{はまぐり}蛤沢周辺・・・昔海だった場所が盛り上がり陸地になった場所。ハマグリなどの化石が見つかった。
- ⑤ ^{ぶんめい}文命堤・・・江戸時代に、洪水を防ぐため酒匂川に作った堤防。
- ⑥ ^{さいじょう}叡乗寺と^{すぎばやし}杉林・・・600年前に建てられ、昔から多くの人々が参拝に訪れる寺。杉林は県の天然記念物。
- ⑦ ^{せいざ}清左衛門地獄池・・・箱根火山である明神ヶ岳を水源とする水が湧き出る泉。
- ⑧ ^{みたけ}御嶽神社と^{やし}矢佐芝石丁場・・・神社の石段に使われている久野石は、箱根火山の活動でできた石。





3 ジオパークについて、() に当てはまる言葉を の中から選んで書きましょう。



- (1) 「ジオ」とは、地球や大地の意味で、パークは() を意味しています。公園といっても遊具などがあるわけではなく、珍しい() や() などが見学できる自然の中の公園です。その中で、地域の成り立ちを学ぶことができる見どころや場所を() といいます。
- (2) 日本国内には、() のジオパークがあり、それぞれの地域で() と呼ばれる人たちが、観光客を案内する() を行うなど地域を盛り上げる活動をしています。
- (3) 「箱根ジオパーク」は箱根町・小田原市・真鶴町・湯河原町の1市3町で平成24年に() に認定され、平成28年には、南足柄市も新たに箱根ジオパークの仲間に加わりました。


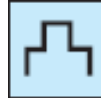
4 3 地層 ジオツアー 日本ジオパーク
ジオサイト 地形 公園 ジオガイド

4 地図記号について、答えましょう。

(1) 次の地図記号は、何を表しているでしょう。

①  ... () ②  ... ()

③  ... () ④  ... ()

⑤  ... () ⑥  ... ()

(2) 地図記号を書きましょう。

① ... (田) ② ... (小・中学校)

③ ... (交番) ④ ... (市役所)

