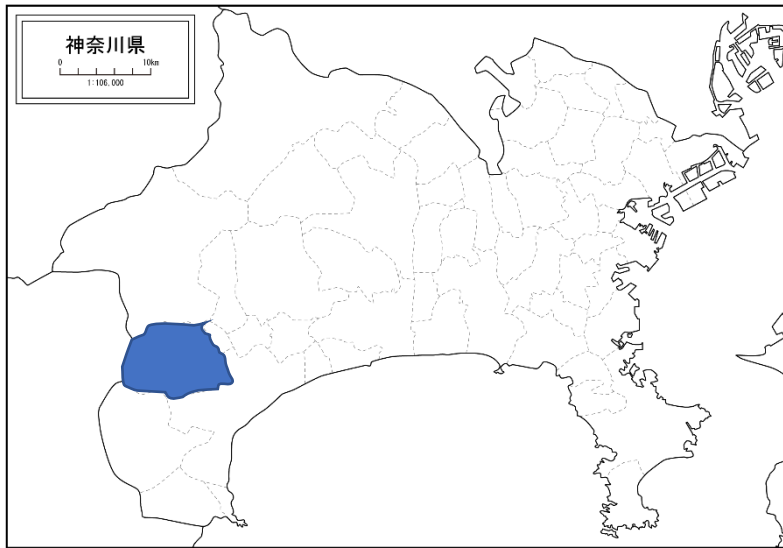


1. わたしたちの市のようす (2ページ ~ 16ページ)

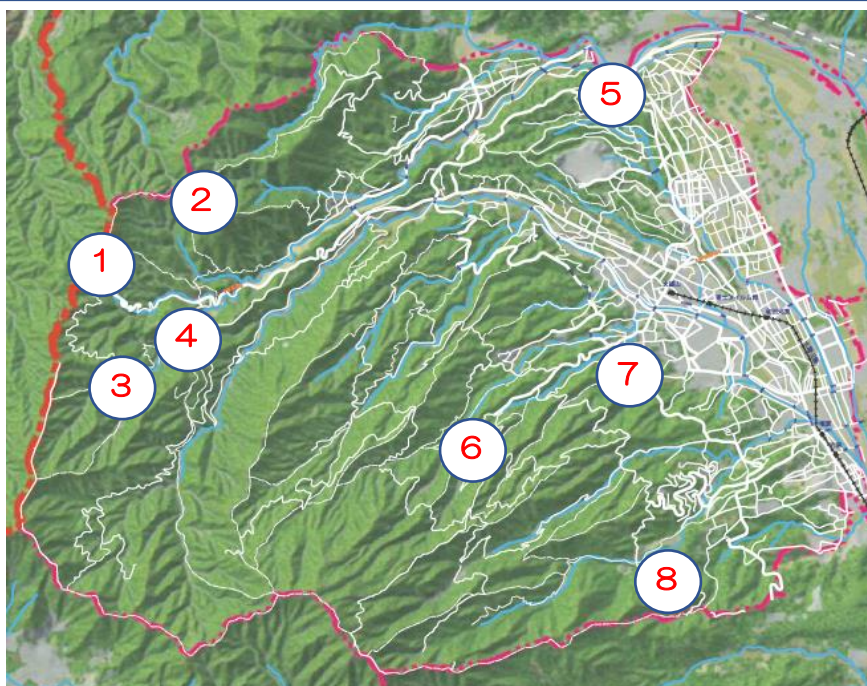
1 みなみあしがらし 南足柄市は、どこでしょう？ みなみあしがらし 南足柄市に す 好きな色を いろ ぬりましょう。



かながわけん 神奈川県には、げんざい 現在
19市、13町、1村が
あります。

2 次の①から⑧の場所は、どこにあるでしょう？ 図の○に当てはまる番号を入れ
ましょう。

- ① あしがらとうげ 足柄峠と足柄道・・・足柄道は1000年以上前から使われていた道で、足柄峠は東西を分ける重要な場所。
- ② やくらだけ 矢倉岳・・・115万年前に地下深くで固まった溶岩が、急速に盛り上がってできた、世界でも珍しい山。
- ③ たき 夕日の滝・・・火山の硬い地層と、海でできた柔らかい地層の境界にできた滝。金太郎の伝説がある。
- ④ はまぐりさわしゅうへん 蛤沢周辺・・・昔海だった場所が盛り上がり陸地になった場所。ハマグリなどの化石が見つかった。
- ⑤ ぶんめいづつみ 文命堤・・・江戸時代に、洪水を防ぐため酒匂川に作った堤防。
- ⑥ さいじょうじ 叡乗寺と すぎばやし 杉林・・・600年前に建てられ、昔から多くの人が参拝に訪れる寺。杉林は県の天然記念物。
- ⑦ せいざえもんじごくいけ 清左衛門地獄池・・・箱根火山である明神ヶ岳を水源とする水が湧き出る泉。
- ⑧ みたけ 御嶽神社と やししばいしちようば 矢佐芝石丁場・・・神社の石段に使われている久野石は、箱根火山の活動でできた石。





3 ジオパークについて、() に当てはまる言葉を の中から選んで書きましょう。



- (1) 「ジオ」とは、地球や大地の意味で、パークは(**公園**)を意味しています。公園といっても遊具などがあるわけではなく、珍しい(**地形**)や(**地層**)などが見学できる自然の中の公園です。その中で、地域の成り立ちを学ぶことができる見どころや場所を(**ジオサイト**)といいます。
- (2) 日本国内には、(**43**)のジオパークがあり、それぞれの地域で(**ジオガイド**)と呼ばれる人たちが、観光客を案内する(**ジオツアー**)を行うなど地域を盛り上げる活動をしています。
- (3) 「箱根ジオパーク」は箱根町・小田原市・真鶴町・湯河原町の1市3町で平成24年に(**日本ジオパーク**)に認定され、平成28年には、南足柄市も新たに箱根ジオパークの仲間に加わりました。


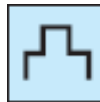
4 3 地層 ジオツアー 日本ジオパーク
ジオサイト 地形 公園 ジオガイド

4 地図記号について、答えましょう。

(1) 次の地図記号は、何を表しているでしょう。

①  ... (**工場**) ②  ... (**神社**)

③  ... (**くだもの畑**) ④  ... (**とうだい**)

⑤  ... (**はたけ**) ⑥  ... (**しろあと**)

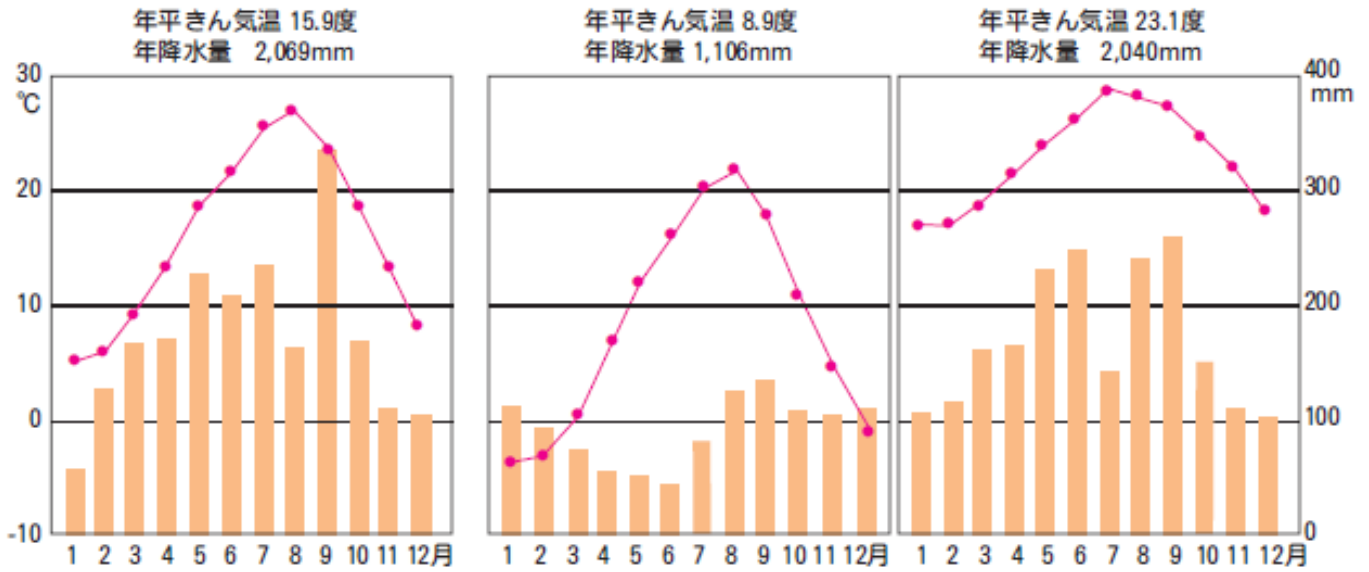
(2) 地図記号を書きましょう。

①  ... (**田**) ②  ... (**小・中学校**)

③  ... (**交番**) ④  ... (**市役所**)

5 ^{みなみあしがらし きこう} 南足柄市の気候に○をつけましょう。

() () ()



6 ^{つぎ ぶんしょう よ ないよう あ ばあい} 次の文章を読み、内容が合っている場合は○を、まちがっている場合は×をつけましょう。

① ^{みなみあしがらし} 南足柄市の花は、りんどうである。 ()

② ^{みなみあしがらし} 南足柄市の木は、さざんかである。 ()

③ ^{みなみあしがらし じんこう やく せんにん} 南足柄市の人口は、約4千人である。 ()

④ ^{たき かざん かた ちそう やわ ちそう きょうかい} 夕日の滝は、火山の硬い地層と、海でできた柔らかい地層の境界にできた滝で、^{たき ももたろう でんせつ} 桃太郎の伝説がある。 ()

⑤ 南足柄市は、小田原市、箱根町、山北町、大井町と^{とな あ}隣り合っている。 ()

⑥ ^{ぶんめいづつみ え どしだい こうすい ぶせ さかわがわ つく ていぼう} 文命堤は、江戸時代に洪水を防ぐため酒匂川に作った堤防である。 ()

⑦ ^{はこね しよ} 箱根ジオパークには、ジオサイトが49か所ある。 ()

