

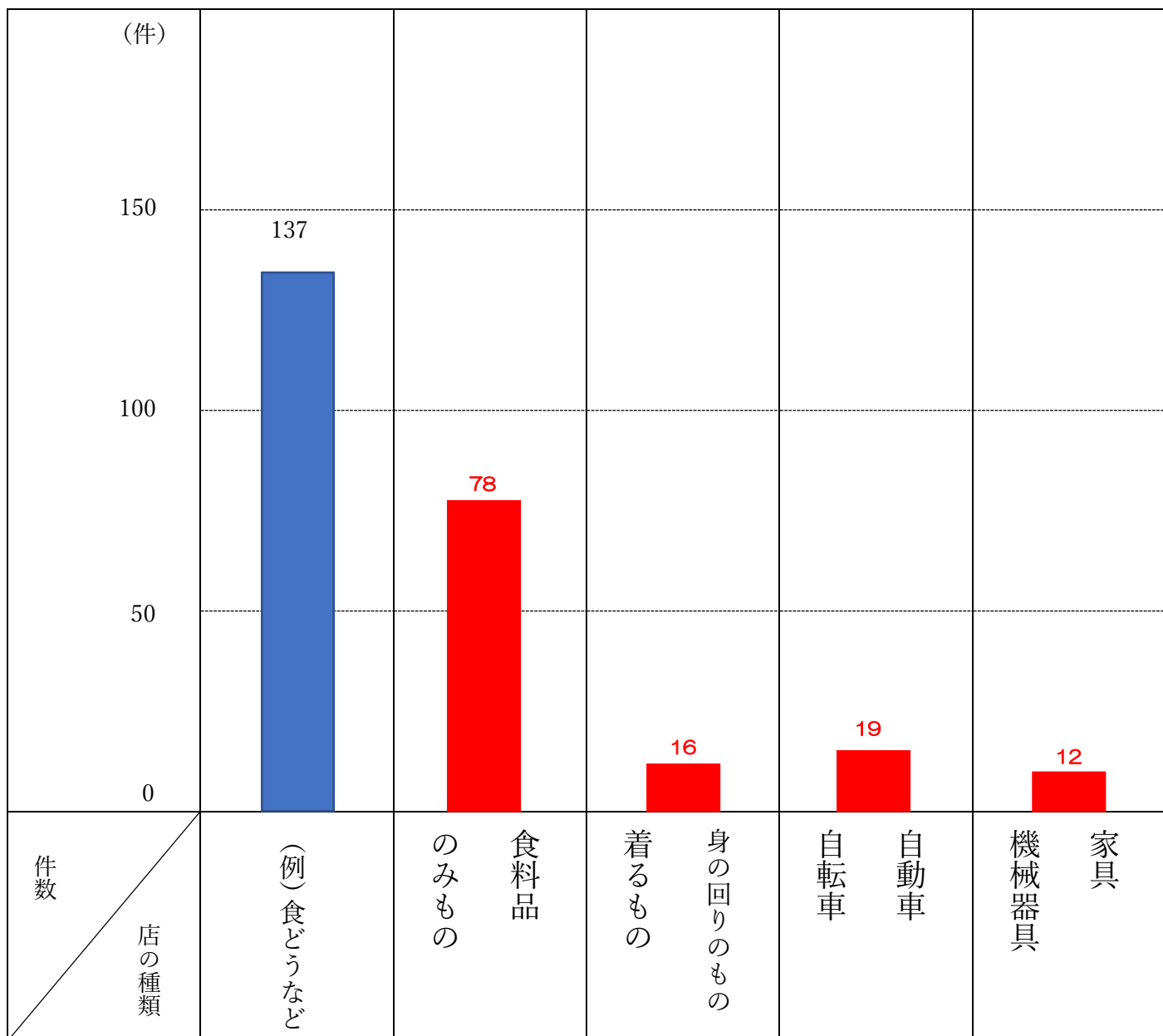
3. 南足柄市の人々のようすとしごと (23 ページ ~ 41 ページ)

1 つぎ ひょう みなみあしがらし みせ しゅるい かず あらわ
 次の表は、南足柄市にある店の種類と数を表しています。

ひょう かず れい した あらわ
 表にある数を、例のように、下のグラフに表しましょう。

みせ しゅるい 店の種類	(例) しょく どうなど	しょくりょうひん 食料品 のみもの	みまわり 身の回りのもの きるもの	じどうしゃ 自動車 じてんしゃ 自転車	かく 家具 きかいきぐ 機械器具
けんすう 件数 (件)	137	78	16	19	12

みなみあしがらしとうけいしょ
 (南足柄市統計書 2014 年)



みなみあしがらしとうけいしょ
 (南足柄市統計書 2014 年)

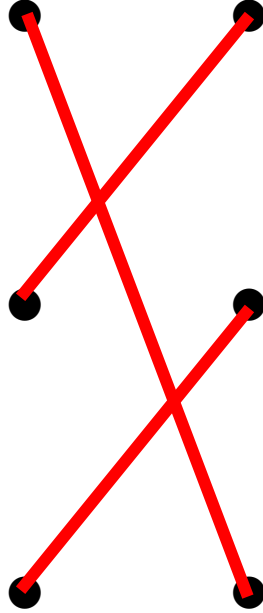
2 ^{みなみあしがらし}南足柄市にあるお店は、いろいろなくふうをしています。

^{つぎ}次のくふうと、そのくふうにあ^あ合うしゃしんを線^{せん}で結びま^{むす}しょう。

^{じかんあ}24時間開いている

^{ひろちゆうしゃじょう}広い駐車場がある

^{みせまえ}店の前にスロープがある



3 ^{みなみあしがらし}南足柄市では、お店同士で組合や商店会をつくり、協力^{きょうりょく}し合^あって、たくさんお客^{きやく}さんが買^かい物^{もの}をして^してくれるように、ポイントカードをつくるなどして活動^{かつどう}しているお店^{みせ}もあります。

このポイントカードの名前^{なまえ}を の中^{なか}に書^かきましょう。



4 つぎ まい しゃしん こめ おこな おも しごと あらわ
 次の4枚の写真は、米づくりで行われる主な仕事を表しています。

これらの仕事は、1年の中で、どのような順番で行われるでしょう。

() に順番を書きましょう。(田おこしを1番とします。)

田植え



(2)

いねかり



(4)

しょうどく



(3)

田おこし



(1)

5 みなみあしがらし むかし つた しなもの でんとうこうげいひん こうじょう
 南足柄市には、昔から伝わる品物(伝統工芸品)をつくっている工場があります。


次の伝統工芸品は、何と呼ばれているか知っていますか。それぞれの品物の名前を の中から選んで書きましょう。

①



寄木細工

②



小田原漆器

③



足柄人形

おだわらしっき
 ・小田原漆器

あしがらにぎょう
 ・足柄人形

よせぎざいく
 ・寄木細工